








Guía de Proceso Matemática Unidad N°1
4° Básico A- B- C- D.
Geometría

I Item (Recordar)

Dibuja en los espacios indicados, los siguientes conceptos

1-Completa cada recuadro con el nombre o dibujo que corresponde:

	
Punto	
	
Rectas paralelas	
Rectas perpendiculares	
	
Rectas secantes	
	
Recta Oblicua	
	

2- Destaca en las siguientes figuras según el color que se indique:

Lados: amarillo

Vértices: rojo

Ángulos: azul

Aristas: verde

