

GUÍA DE TRABAJO EN EL HOGAR
HISTORIA, GEOGRAFIA Y CIENCIAS SOCIALES
UNIDAD 1: ¿CÓMO ES EL LUGAR DONDE VIVIMOS?


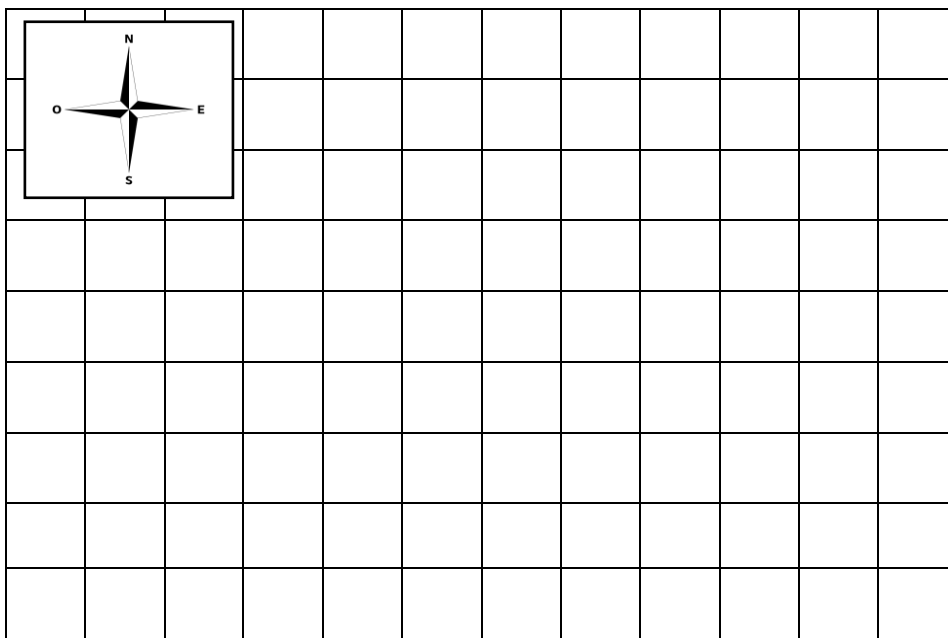
OBJETIVO: Leer, interpretar y dibujar planos simples de su entorno utilizando puntos de referencia.

I. PUNTOS CARDINALES

1. Observa la rosa de los vientos y escribe los principales puntos cardinales (sur, este, oeste, norte)



2. Sigue las instrucciones y traza el camino para ayudar al gato a llegar a su alimento.




- a. Avanza cuatro cuadros hacia el norte.
- b. Avanza cuatro cuadros al este.
- c. Avanza un cuadro hacia el sur.
- d. Avanza tres cuadros al este.
- e. Avanza tres cuadros al norte y dos cuadros al oeste.
- f. Avanza dos cuadros al norte y cinco cuadros al este.

3. Realiza un dibujo sencillo siguiendo las pistas.

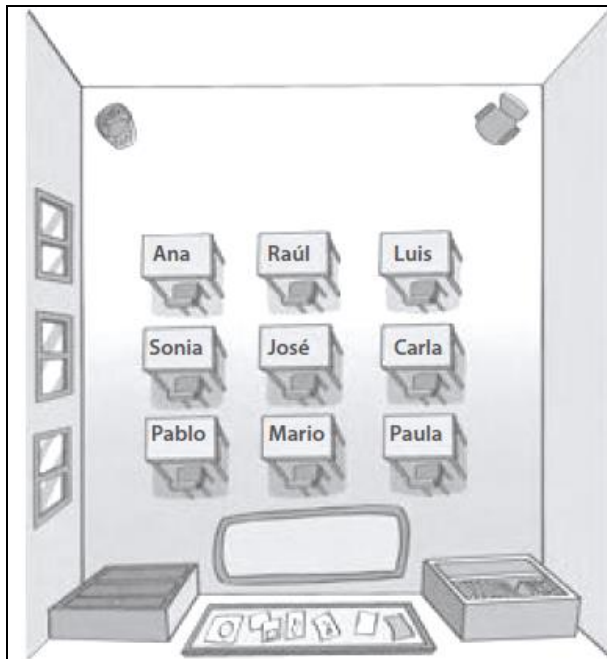
PISTAS

- Un lago al centro del recuadro.
- Al norte del lago dibuja unas nubes.
- Algunas montañas al este del lago.
- Al oeste del lago una casa.
- Al sur del lago un árbol.



II. PLANO

4. Observa el siguiente plano y completa la información solicitada.




Completa las oraciones con: izquierda, derecha, delante y atrás.

- a. Pablo se sienta _____ de Sonia.
- b. Ana se sienta a la _____ de Raúl.
- c. Carla se sienta a la _____ de José.
- d. Raúl se sienta _____ de José.
- e. Mario se sienta a _____ de Paula.
- f. Carla se sienta _____ de Luis y _____ de Paula.

5. Observa el plano y contesta

- 1) Al sur del supermercado están los
- 2) Al norte del hospital están los
- 3) Al este de la plaza está el



6. Crea y pinta un plano sencillo de tu casa.

