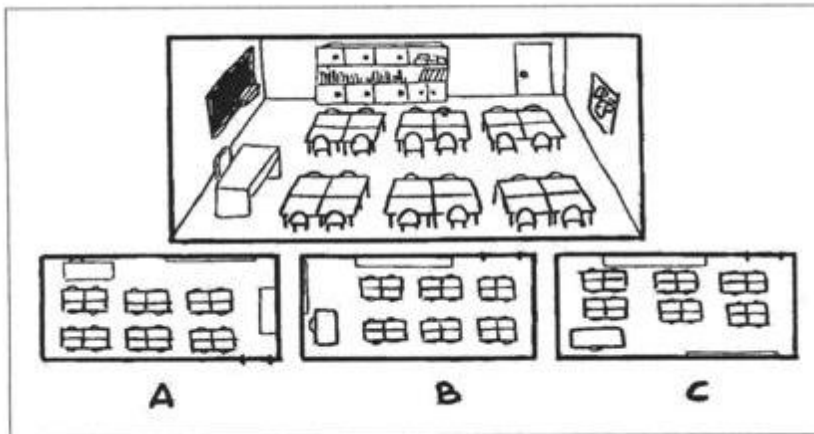


GUIA DE TRABAJO
HISTORIA, GEOGRAFIA Y CIENCIAS SOCIALES
UNIDAD 1: ¿CÓMO ES EL LUGAR DONDE VIVIMOS?

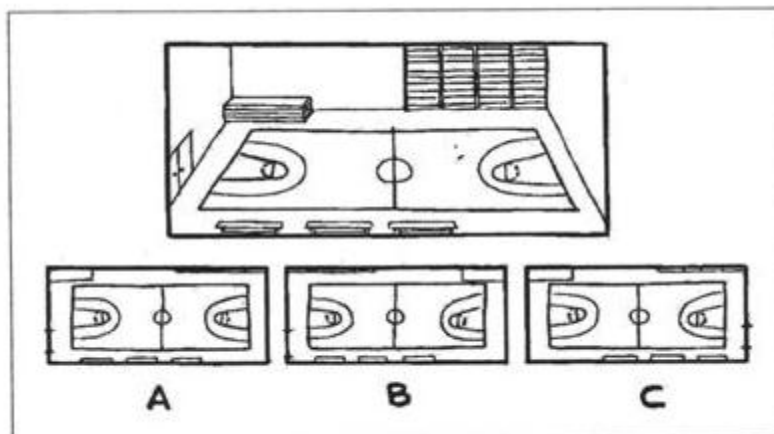
OBJETIVO: Leer y dibujar planos simples de su entorno, utilizando puntos de referencia, categorías de posición relativa y simbología pictórica.

ACTIVIDAD 1: Observa las siguientes imágenes y marca con una X la alternativa correcta que muestra cómo se vería el plano de una sala de clases y de un gimnasio.

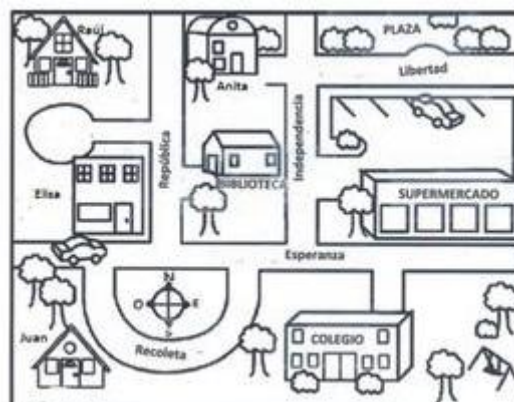
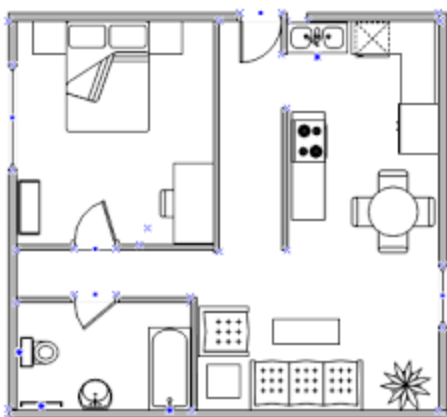
a) Plano de la sala de clases




b) Plano del gimnasio



c)Cuál de las siguientes imágenes corresponde al plano de una casa:



ACTIVIDAD 2: Observa y responde



1. Al sur del parque se encuentra _____
2. Al Norte de la plaza está el _____
3. Al oeste de la plaza esté el _____
4. Al este de la plaza está la _____
5. Al sur de la iglesia está el _____
6. Si estoy en el cine y quiero ir al restaurante, debo caminar hacia el _____
7. El plano representa a una _____
8. El banco se ubica al _____ del centro