



Guía de Trabajo Primero Año Básico

Se recuerda lo siguiente:

- ❖ Ante cualquier duda enviar un correo a: primerobasicoalborada2020@gmail.com

1. Completa cada recuadro según corresponda.

Familia del:

10	→									
----	---	--	--	--	--	--	--	--	--	--

2. Escribe el antecesor y sucesor según cada número.

	12			18			14	
--	----	--	--	----	--	--	----	--

3. Rodea el número mayor de cada pareja.

15 - 7	10 - 20	12 - 8	14 - 18
--------	---------	--------	---------

4. Completa con los signos $>$, $<$ o $=$. (mayor, menor o igual que)



12		15	19		13	10		10
18		18	16		17	12		11

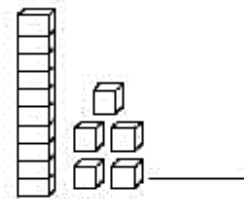
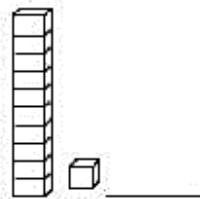
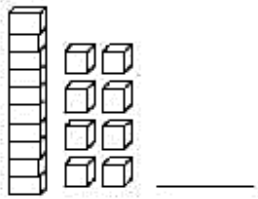
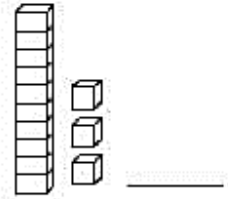
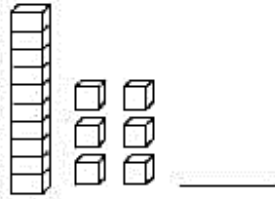
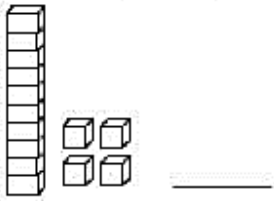
5. Une la descomposición aditiva con el número que le corresponde.

$10 + 9$	14
$10 + 3$	19
$10 + 4$	13

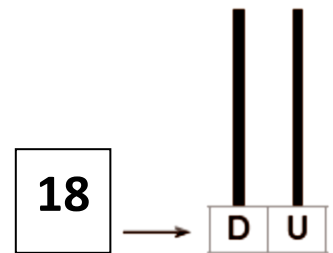
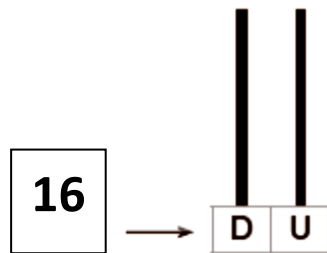
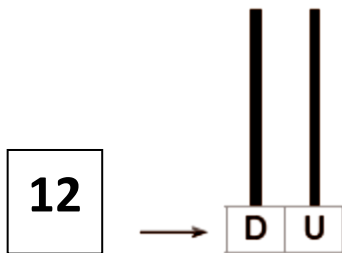
6. Descompone en unidades y decenas la cantidad indicada.

<p>a)</p> <div style="text-align: center; border: 1px solid black; width: 50px; margin: 0 auto; padding: 5px;">11</div> <div style="display: flex; justify-content: space-around; margin-top: 20px;"> <div style="border: 1px solid orange; width: 40px; height: 30px; display: flex; align-items: center; justify-content: center;"> </div> D son <div style="border: 1px solid orange; width: 40px; height: 30px; display: flex; align-items: center; justify-content: center;"> </div> U </div>	<p>b)</p> <div style="text-align: center; border: 1px solid black; width: 50px; margin: 0 auto; padding: 5px;">19</div> <div style="display: flex; justify-content: space-around; margin-top: 20px;"> <div style="border: 1px solid orange; width: 40px; height: 30px; display: flex; align-items: center; justify-content: center;"> </div> D son <div style="border: 1px solid orange; width: 40px; height: 30px; display: flex; align-items: center; justify-content: center;"> </div> U </div>	<p>c)</p> <div style="text-align: center; border: 1px solid black; width: 50px; margin: 0 auto; padding: 5px;">13</div> <div style="display: flex; justify-content: space-around; margin-top: 20px;"> <div style="border: 1px solid orange; width: 40px; height: 30px; display: flex; align-items: center; justify-content: center;"> </div> D son <div style="border: 1px solid orange; width: 40px; height: 30px; display: flex; align-items: center; justify-content: center;"> </div> U </div>
--	--	--

7. Escribe el número representado.



8. Representa las siguientes cantidades.



ACTIVIDAD TEXTO ESCOLARES

* Números mayores a 10 página 74 a la 77.

ACTIVIDAD CUADERNO DE EJERCICIOS:

*Números mayores que 10 página 33 a la 35.

✂ Recorta las tarjetas y ordena dentro de la casa

