

Guía de Trabajo Primero Año Básico

Se recuerda lo siguiente:

- ❖ Ante cualquier duda enviar un correo a: primerobasicoalborada2020@gmail.com

Composición y descomposición de números.

1. Observa los siguientes números y compone.

a)

4	3
---	---

--

b)

5	4
---	---

--

c)

3	3
---	---

--

2. Observa los siguientes números y descompone.

a)

8

--	--

b)

3

--	--

c)


7

--	--

Sumas y restas.


3. Cuenta  ¿Cuántos hay?

a)



--

b)




--

c)

--

--

d)



--

4. Resuelve las siguientes sumas y restas. Recuerda mirar bien el signo si es suma (+) o resta (-). En los espacios puedes dibujar para resolver.

a) $2 + 3 =$	b) $9 - 9 =$
c) $3 + 7 =$	d) $7 - 6 =$

Resolución de problemas.

5. Resuelve los siguientes problemas

<p>a) Tenía 9 peces. Regalé 3. ¿Cuántos peces me quedan?</p> <p><input type="text"/> - <input type="text"/> = <input type="text"/></p> <p>Respuesta: <input type="text"/> peces.</p>	<p>b) Había 5 perros. Llegaron 5 más. ¿Cuántos perros hay en total?</p> <p><input type="text"/> + <input type="text"/> = <input type="text"/></p> <p>Respuesta: <input type="text"/> perros.</p>
--	--

ACTIVIDAD TEXTO ESCOLARES

- *Composición y descomposición de número página 28 y 29.
- *Actividades de suma página: 36 a la 41
- *Actividades de restas página: 52 a la 58.

ACTIVIDAD CUADERNO DE EJERCICIOS:

- *Composición y descomposición de número página 14 y 15.
- *Actividades de suma página: 18 a la 21
- *Actividades de restas página: 22 a la 25.