

Guía de Matemática.

Se recuerda lo siguiente:

- ❖ Ante cualquier duda enviar un correo a: 1ºA mvergara@colegioalboradacoyhaique.cl
1ºB cibanez@colegioalboradacoyhaique.cl / 1ºC Kruiz@colegioalboradacoyhaique.cl
- ❖ Si puedes pega la guía en tu cuaderno de Matemática.

1. Completa la siguiente secuencia de la familia del 20.



20				24	25				29
----	--	--	--	----	----	--	--	--	----

2. Escribe el antecesor y sucesor según cada número.

a)

	25	
--	----	--

b)

	21	
--	----	--

c)

	18	
--	----	--

d)

	20	
--	----	--

e)

	28	
--	----	--

f)

	24	
--	----	--

3. Completa con los signos $>$, $<$ o $=$. (mayor, menor o igual que)

a)

24		24
----	--	----

b)

27		29
----	--	----

c)

15		25
----	--	----

d)

18		28
----	--	----

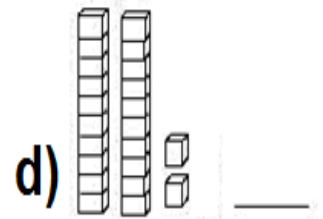
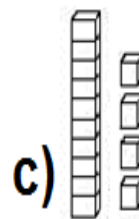
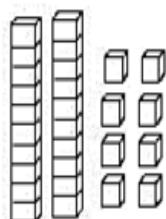
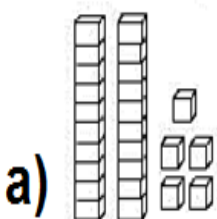
e)

21		24
----	--	----

f)

20		20
----	--	----

4. Escribe el número representado.



5. Representa las siguientes cantidades.

a)

D	U

24

b)

D	U

21

c)

D	U

17

d)

D	U

22

6. Resuelve las siguientes adiciones y sustracciones.

a)
$$\begin{array}{r} 12 \\ + 12 \\ \hline \end{array}$$

b)
$$\begin{array}{r} 15 \\ + 12 \\ \hline \end{array}$$

c)
$$\begin{array}{r} 19 \\ - 4 \\ \hline \end{array}$$

d)
$$\begin{array}{r} 15 \\ - 14 \\ \hline \end{array}$$

7. Resuelve los siguientes problemas.

- a) Tamara tenía 24 lápices de colores, luego perdió 12 lápices. ¿con cuántos lápices de colores se quedó Tamara?

<p>DATOS:</p> <p>* _____</p> <p>* _____</p>	<p>OPERATORIA:</p> <div style="display: flex; align-items: center; justify-content: center;"> <div style="border: 1px solid black; width: 20px; height: 20px; margin-right: 10px;"></div> <table border="1" style="border-collapse: collapse; text-align: center;"> <tr><td style="width: 30px; height: 30px;">D</td><td style="width: 30px; height: 30px;">U</td></tr> <tr><td style="width: 30px; height: 30px;"></td><td style="width: 30px; height: 30px;"></td></tr> <tr><td style="width: 30px; height: 30px;"></td><td style="width: 30px; height: 30px;"></td></tr> <tr><td style="width: 30px; height: 30px;"></td><td style="width: 30px; height: 30px;"></td></tr> </table> </div>	D	U						
D	U								
<p>RESPUESTA:</p> <p>_____</p>									

- b) Josefina tenía 12 libros de animales para su cumpleaños le regalaron 10 libros más. ¿Cuántos libros tiene ahora josefina?

<p>DATOS:</p> <p>* _____</p> <p>* _____</p>	<p>OPERATORIA:</p> <div style="display: flex; align-items: center; justify-content: center;"> <div style="border: 1px solid black; width: 20px; height: 20px; margin-right: 10px;"></div> <table border="1" style="border-collapse: collapse; text-align: center;"> <tr><td style="width: 30px; height: 30px;">D</td><td style="width: 30px; height: 30px;">U</td></tr> <tr><td style="width: 30px; height: 30px;"></td><td style="width: 30px; height: 30px;"></td></tr> <tr><td style="width: 30px; height: 30px;"></td><td style="width: 30px; height: 30px;"></td></tr> <tr><td style="width: 30px; height: 30px;"></td><td style="width: 30px; height: 30px;"></td></tr> </table> </div>	D	U						
D	U								
<p>RESPUESTA:</p> <p>_____</p>									

✂ Recorta las tarjetas y ordena dentro de la casa

